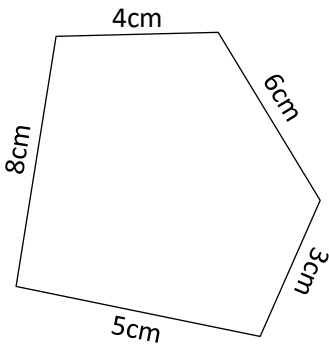


Aktiwiteit

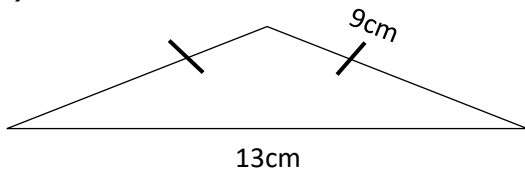
Voltooi nou die volgende opdrag om te sien wat jy verstaan het.

1. Bereken die omtrek van die volgende onreëlmatige veelhoek.

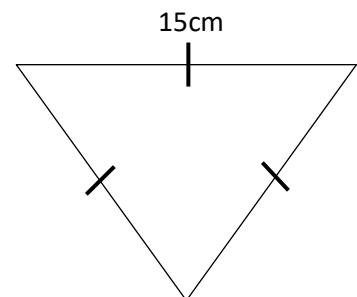


2. Bereken die omtrek van die volgende driehoeke.

(a)

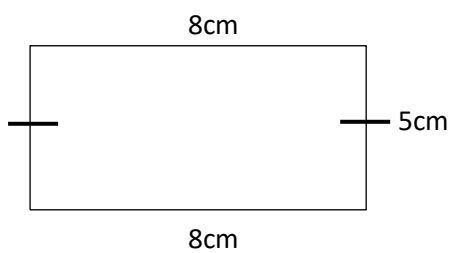


(b)



3. Bereken die omtrek van die volgende vierhoeke.

(a)



(b)

